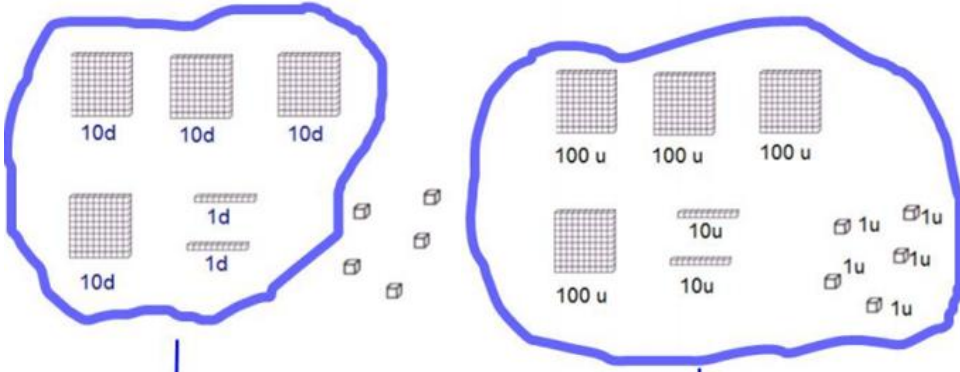


Chiffre de / nombre de

425 → chiffre des unités..... ; chiffre des dizaines ;
chiffre des centaines



Nombre de dizaines :

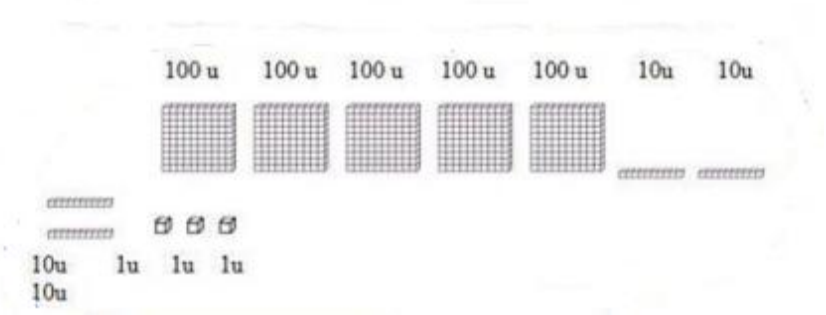
nombre d'unités :

Quel est ce nombre ?

Quel est le chiffre des unités ?

Combien y-a-t-il d'unités dans ce nombre (en comptant les unités cachées dans les dizaines et dans les centaines) ?


Ceci s'appelle le d'unités



Quel est le chiffre des dizaines ?

Combien y-a-t-il de dizaines dans ce nombre (en comptant les dizaines cachées dans les centaines) ?

Ceci s'appelle le de dizaines



- Quel est ce nombre ?
- Nombre de centaines
- Chiffre des centaines
- Nombre de dizaines
- Chiffre des dizaines
- Nombre d'unités
- Chiffre des unités



$$\dots + \dots + \dots + \dots$$

$$\dots$$

Quel est ce nombre ?
 Nombre de centaines
 Chiffre des centaines
 Nombre de dizaines
 Chiffre des dizaines.....
 Nombre d'unités.....
 Chiffre des unités.....



$$\dots + \dots + \dots + \dots$$

$$\dots$$

Quel est ce nombre ?
 Nombre de centaines
 Chiffre des centaines
 Nombre de dizaines
 Chiffre des dizaines.....
 Nombre d'unités.....
 Chiffre des unités.....

M	C	D	U
.....



$$\dots + \dots + \dots + \dots$$

$$\dots$$

M	C	D	U
.....

Nombre de centaines

Chiffre des centaines

Nombre de dizaines

Chiffre des dizaines.....

Nombre d'unités.....

Chiffre des unités.....