




Je dénombre de 1 à 3.

Prénom :

date :

Relie chaque bloc au nombre qui lui correspond.



Je dénombre de 1 à 3.

Relie chaque bloc au nombre qui lui correspond.

