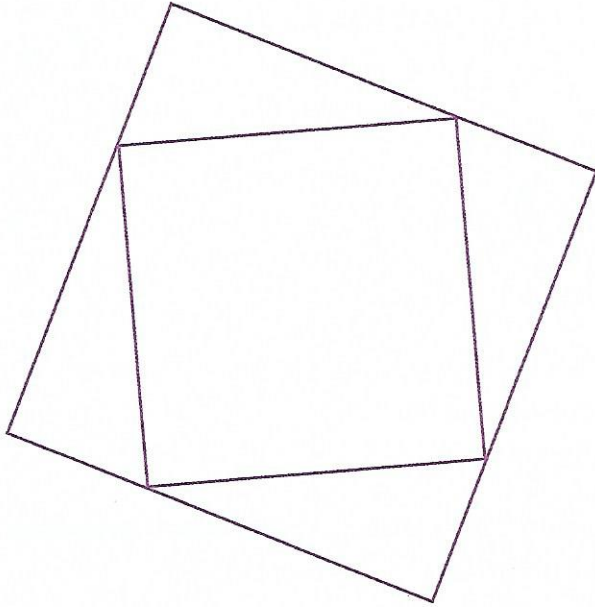





Pour chacun des exercices 1 à 4, fais les constructions sur une feuille de papier blanc.

REPRODUIRE

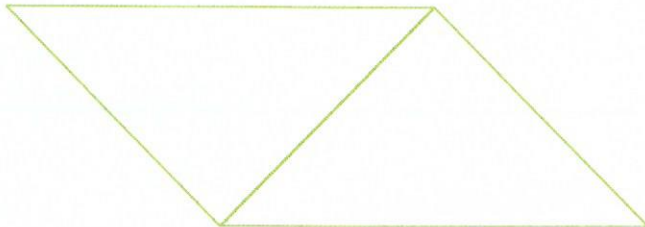
1 Reproduis cette figure.



3 Reproduis cette figure.

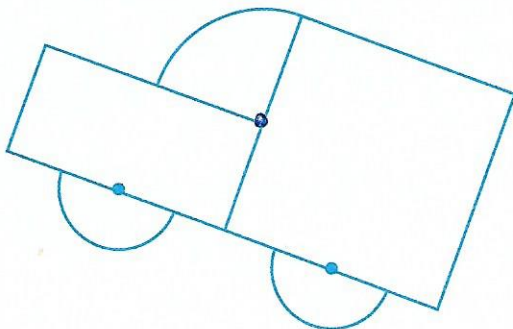


2 Reproduis cette figure.



AGRANDIR

4 Reproduis cette figure en doublant toutes les dimensions.
★★



Construis un triangle rectangle dont les côtés de l'angle droit mesurent 3 cm et 4 cm. Construis ensuite trois triangles identiques. Découpe-les.

En assemblant ces quatre triangles, essaie de construire :

- a. un triangle
- b. un quadrilatère
- c. un pentagone (polygone à 5 côtés)
- d. un hexagone (polygone à 6 côtés)

Attention : deux triangles doivent toujours être assemblés en faisant coïncider deux côtés de même longueur.