



AIRES : PARTAGES DE SURFACES

1 Chaque rectangle est partagé en quatre parties.  
Sont-ils partagés en quatre parties de même aire ? Explique ta réponse.




Figure 1

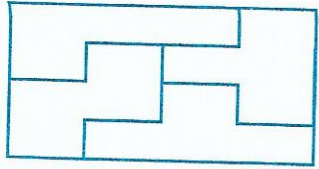


Figure 2




Figure 3

Réponse : .....

Explication : .....

.....

2 Chaque triangle est partagé en trois parties A, B et C.  
Sur quelle(s) figure(s) l'aire de la partie B est-elle le tiers de l'aire du triangle ?  
Explique ta réponse.

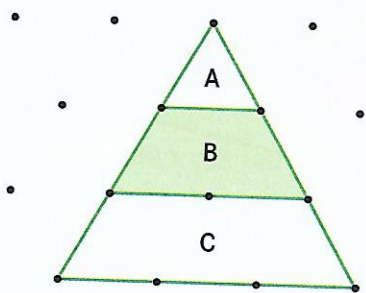


Figure 4

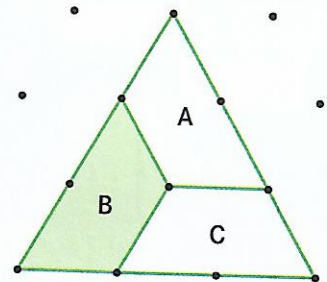


Figure 5

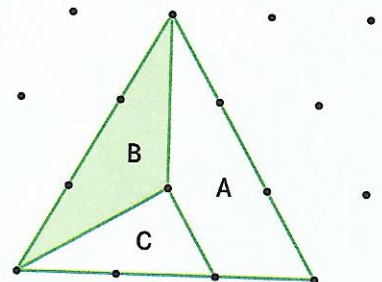


Figure 6

Réponse : .....

Explication : .....

.....

3 Partage le carré ci-contre en trois surfaces de même aire et de formes différentes.  
Explique comment tu fais.

.....

.....

.....

.....

.....

